



Cuestionario métrico vs. imperial

¿Qué prefieres...?


1. ¿Preferirías cavar un agujero de 1,5 metros de profundidad o de 5 pies?

- 1,5 metros
- 5 pies




2. ¿Preferirías caminar por un desierto durante 10 *kilómetros* o 6 *millas*?

- 10 kilómetros
- 6 millas




3. ¿Preferirías pintar un área de 400 *pies cuadrados* o 40 *metros cuadrados*?

- 400 pies cuadrados
- 40 metros cuadrados



4. ¿Preferirías llevar una bolsa de 10 *kilogramos* o de 20 *libras*?

- 10 kilogramos
- 20 libras



5. ¿Preferirías empujar un coche averiado 50 metros o 150 pies?

- 50 metros
- 150 pies




6. ¿Preferirías palear la nieve de un área de 200 metros cuadrados o de 2.000 pies cuadrados?

- 200 metros cuadrados
- 2.000 pies cuadrados




7. ¿Preferirías pedalear cuesta arriba durante 5 *kilómetros* o 3 *millas*?

- 5 kilómetros
- 3 millas



8. ¿Preferirías limpiar un derrame de 100 litros de líquido o de 25 galones?

- 100 litros
- 25 galones



9. ¿Preferirías comprar una bebida en un vaso que contiene 500 *mililitros* o 1 *pinta* imperial británica?

- 500 mililitros
- 1 pinta



10. ¿Preferirías nadar en un lago a unos frescos 15 grados Celsius o a 56 grados Fahrenheit?

- 15 grados Celsius
- 56 grados Fahrenheit

